

Date : _____

Répertoire additif

1

a

b

c

d

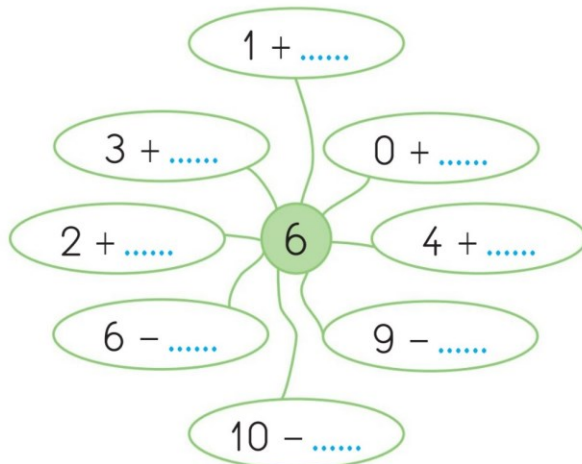
e

f

Décompositions de nombres

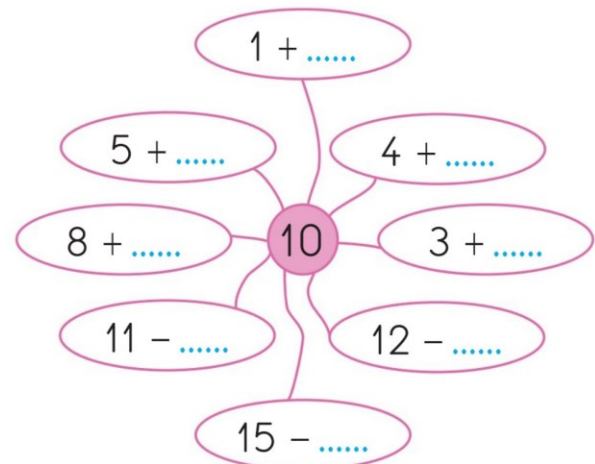
2

Complète pour que le résultat soit égal à 6.



+

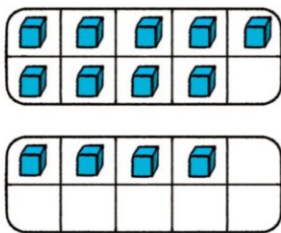
Complète pour que le résultat soit égal à 10.



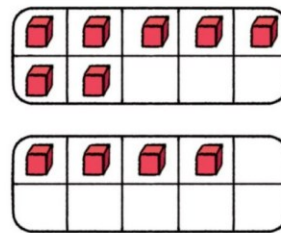
+

Calcul réfléchi : passage par 10

4

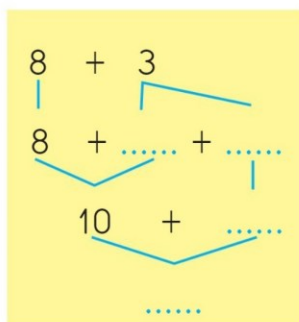
Trouve rapidement le nombre total de cubes, puis **complète** les égalités.

$$9 + 4 = \dots\dots\dots$$

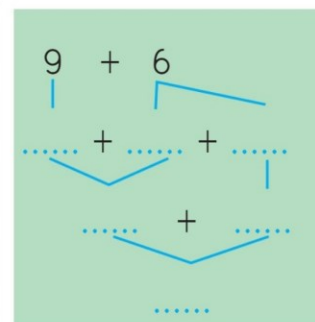


$$\dots\dots + \dots\dots = \dots\dots$$

5

Complète ces arbres de calcul, puis **complète** les égalités.

$$8 + 3 = \dots\dots\dots$$



$$9 + 6 = \dots\dots\dots$$